

2023 M. VILNIAUS MIESTO 2 – 4 KLASIŲ MOKINIŲ
MATEMATIKOS OLIMPIADA
UŽDUOTYS 4 KLASEI

Mokykla

Mokinio vardas, pavardė

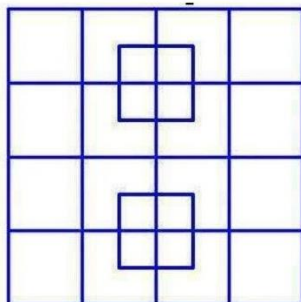
Kodas.....

1. Vieno žymiausio įvykio Lietuvoje metai pateikti romėniškais skaičiais: MCCCXXIII. Užrašyk tuos metus arabiškais skaičiais ir parašyk, kas įvyko tais metais.

Atsakymas:

2 t.

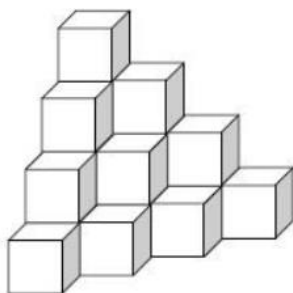
2. Kiek kvadratų šiame piešinyje?



Atsakymas: kvadratų

1 t.

3. Kiek kaladėlių trūksta, kad susidarytų kubas?



1 t.

Atsakymas:

10. Mažytė koala suėda vieno eukalipto lapus per 10 h, o suaugusi koala per tą laiką - dvigubai daugiau lapų. Per kiek laiko mažytė koala, jos mama ir tėtis suės visus lapus, jeigu medyje auga apytiksliai 1000 lapų?

2 t.

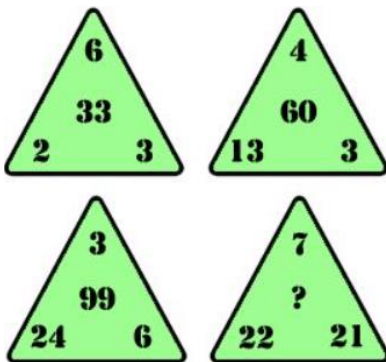
Atsakymas:

11. Vienas laikrodis atsilieka 25 minutėmis ir rodo 1 h 50 min. Kokį laiką rodo antrasis laikrodis, jeigu jis 15 minučių skuba?

1 t.

Atsakymas:

12. Surask dėsningumą ir parašyk, koks skaičius turėtų būti vietoje klausuko?



1 t.

Atsakymas:
