

2022 M. VILNIAUS MIESTO 2 – 4 KLASIŲ MOKINIŲ MATEMATIKOS OLIMPIADA  
 UŽDUOTYS 2 KLASEI

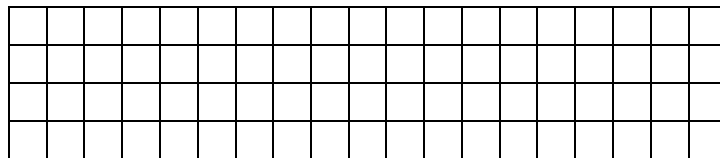
Mokykla .....

Mokinio vardas, pavardė .....

Kodas.....

1. Mokytoja su 5 mokiniais ėjo į spektaklį. Už visus bilietus sumokėjo 50 eurų. Bilietas suaugusiajam kainavo 15 eurų. Kiek kainavo vienas bilietas vaikui?

Sprendimas:



Atsakymas: .....

2 t.

2. Ką tik gimęs raganosiukas sveria 55 kg. Per dieną priauga po 2 kg. Kiek raganosiukas svers jau po dviejų savaičių?

Atsakymas: .....

1 t.

3. Spektaklis yra dviejų dalių po 45 min, kurias skiria pertrauka. Spektaklio pradžia 10 h 40 min, o pabaiga – 12 h 30 min. Kiek minučių trunka pertrauka?

Atsakymas: .....

1 t.

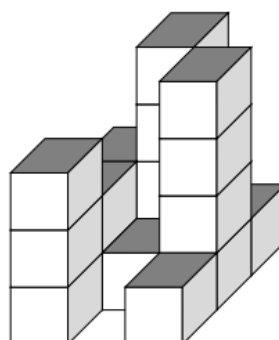
4. Įrašyk tinkamą ženklą <, > arba = .

3 t.

36 min + 27 min ○ 1h 3min | 21 h ○ 15 parų | 2 metai 8 mėn. ○ 36 mėn.

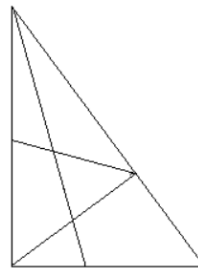
5. Kiek kubelių yra šiame statinyje?

Atsakymas: .....



1 t.

6. Parašyk, kiek brėžinyje yra trikampių.

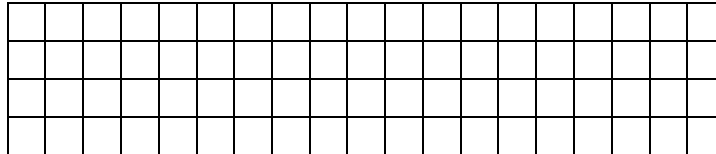


Brėžinyje yra \_\_\_\_\_ trikampių.

1 t.

7. Tomas pirkė 6 nuotraukų rėmelius, o Vytas 3 albumus. Berniukai išleido po tiek pat, o iš viso sumokėjo 24 eurus. Kiek kainavo vienas albumas?

Sprendimas:



Atsakymas: .....

2 t.

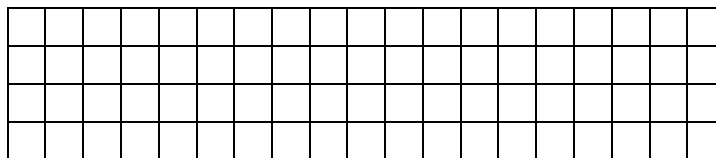
8. Gatvė apšviesta 5 lempomis. Atstumas tarp gretimų lempų 8 metrai. Keliais metrais viena nuo kitos nutolusios pirma ir paskutinė lempos?

Atsakymas: .....

1 t.

9. Už tris rašiklius, dvi dėžutes flomasterių ir du penalus Ema sumokėjo 40 eurų. Kotryna pirkė tokį pat vieną rašiklį, dvi dėžutes flomasterių ir du penalus bei sumokėjo 28 eurus. Kiek kainavo vienas rašiklis?

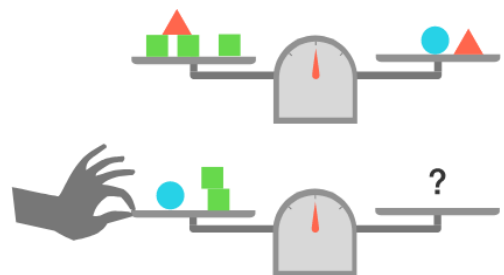
Sprendimas:



Atsakymas: .....

2 t.

10. Kiek kubelių reikia padėti tuščioje svarstyklių lėkštelėje, kad svarstyklės būtų pusiausvyros?



Atsakymas: .....

1 t.

11. Skaičiai 1, 3, 6, 10, 15, 21, ....., ....., ....., 55 surašyti pagal tam tikrą dėsninę. Trūksta trijų skaičių. Kokių?

Atsakymas: .....

1 t.

12. Dviejų skaičių skirtumas yra 53. Atėminys 8 vienetais mažesnis už skirtumą. Koks yra turinys?

Atsakymas: .....

1 t.

13. Močiutė sudėjo obuolius į 5 krepšius. Obuolių skaičius kiekviename krepšyje yra skirtingas, joks krepšys nėra tuščias ir jokiame nėra daugiau 5 obuolių. Kiek iš viso obuolių turėjo močiutė?

Atsakymas: .....

1 t.

14. Ignas kartu su savo katinu sveria 35 kg. Katinas yra 6 kartus lengvesnis už Igną. Kiek kilogramų sveria Ignas?

Atsakymas: .....

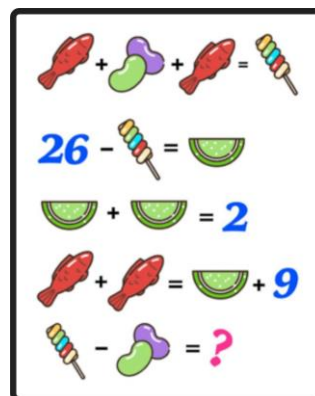
1 t.

15. Naktį termometras rodė  $-4^{\circ}\text{C}$ . Dieną 7 laipsniais sušilo. Kiek laipsnių rodė termometras dieną?

Atsakymas: .....

1 t.

16. Kokį skaičių slepia klaustukas?



Atsakymas: .....

1 t.