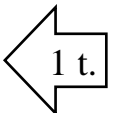


**ЗАДАНИЯ ГОРОДСКОЙ ОЛИМПИАДЫ
ПО ПОЗНАНИЮ МИРА ДЛЯ 3-ЕГО КЛАССА
2019 Г.**

Школа.....


Имя, фамилия ученика Код.....

1. Объясни, по какой причине поднимается ветер.



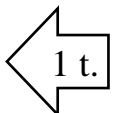
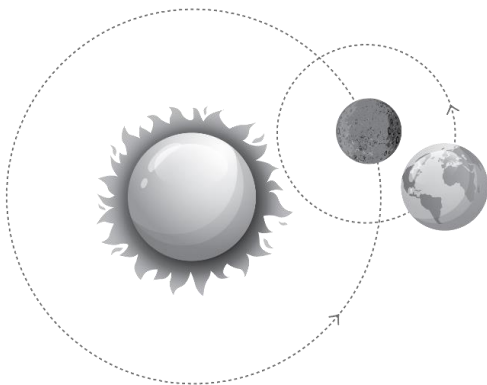
.....
.....

2. Знаешь ли ты нашу планету? Верное утверждение отметь буквой В, ошибочное утверждение отметь буквой О.



- Большую часть Земли занимает суша.
- В любой точке Земли продолжительность суток одинакова и равна 24 часам. Но в разных местах Земли различается длительность дня и ночи.
- Земля – это звезда.
- Смена времён года происходит оттого, что ось Земли наклонена.
- Температура поверхности Земли близка температуре поверхности Солнца.

3.

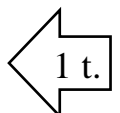


Рассмотри рисунок. Найди ошибку. Напиши, что изображено неверно.

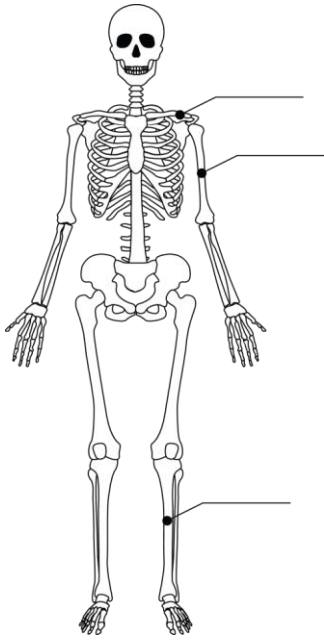
.....
.....

4. Как протекает процесс пищеварения в организме человека? Отметь крестиком (X) правильный порядок.

- Рот, желудок, пищевод, тонкая кишка, толстая кишка.
- Рот, пищевод, желудок, тонкая кишка, толстая кишка.
- Рот, пищевод, тонкая кишка, толстая кишка, желудок.



5.



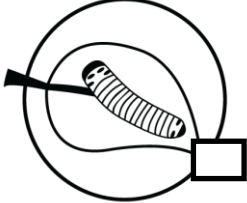
Выбери и запиши на рисунке названия отмеченных костей:

3 t.


- БЕДРЕННАЯ КОСТЬ,
- КЛЮЧИЦА,
- РЕБРО,
- БЕРЦОВАЯ КОСТЬ,
- ПЛЕЧЕВАЯ КОСТЬ,
- ПОЗВОНОЧНИК,
- КОСТИ ТАЗА.

6. Рассмотрите картинки. Расставьте числа по порядку так, чтобы было ясно, откуда появляется и как растёт бабочка. Запишите названия стадий её развития.

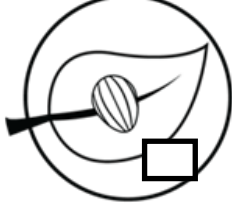
2 t.




.....



.....




.....



.....

7.

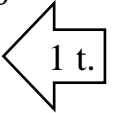


3 t.

Рассмотри картинки, прочитай утверждения. Возле каждого утверждения запиши животное:

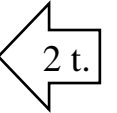

1. У этого животного есть скелет. Оно кормит своих детёнышей молоком.
.....
2. Тело этого животного состоит из трёх частей. У этого животного три пары ног.
.....
3. У этого беспозвоночного животного мягкое тело.
.....

8. Пятилетняя Агне сорвала все цветы клубники в бабушкином огороде. Что случится с клубникой? Напиши.



.....

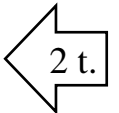
9. Какие предметы мы можем вставить в отмеченное место цепи, чтобы электрическая лампочка загорелась? Запиши хотя бы два примера.



1.

2.

10. Лина сделала три раствора и бросила в каждый из них по кубику льда.



Вода и 1 ложка соли.

Вода и 2 ложки соли.

Вода и 3 ложки сахара.

Отметь крестиком (X), в каком стакане кубик льда растает быстрее всех, и объясни, почему.

.....
.....

11. Запиши на карте названия этнографических регионов Литвы.

