

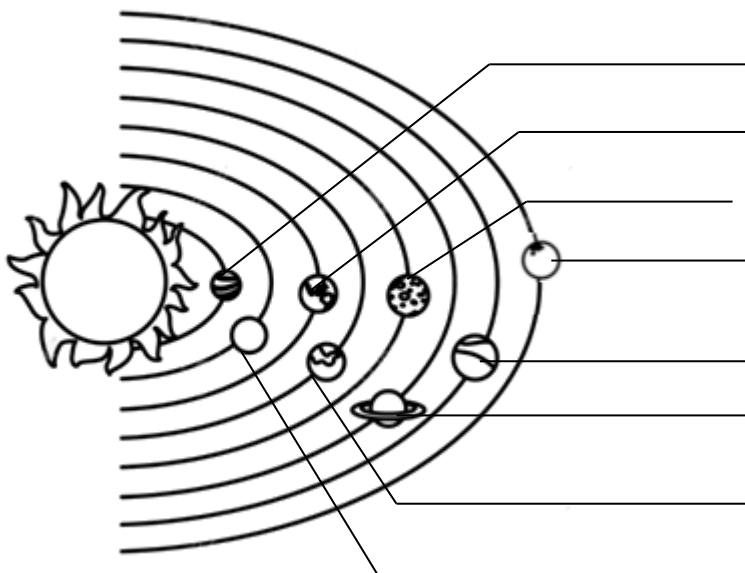
VILNIAUS MIESTO KETVIRTŲ KLASIŲ MOKINIŲ
 PASAULIO PAŽINIMO OLIMPIADOS UŽDUOTYS
 2019 M.

Mokykla

Mokinio vardas, pavardė Kodas.....

1. Aplink Saulę skrieja 8 planetos. Dvi iš jų dėl specifinių savybių dar vadinamos Raudonąja ir Žydraja (Melsvąja) planetomis. Surask jas Saulės sistemoje ir parašyk ant linijų tikruosius tų dviejų planetų pavadinimus.

2 t.



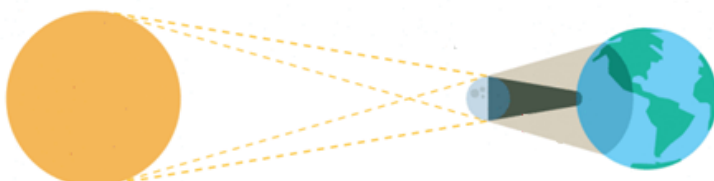
2. Ar pažįsti Mėnulį? Teisingą teiginį pažymėk T, klaidingą teiginį pažymėk K.

5 t.

- Mėnulis neskleidžia šviesos.
- Mėnulis apsisuka aplink Žemę per 365 dienas.
- Mėnulyje nėra oro ir vandens.
- Per dieną Mėnulio paviršiaus temperatūra įšyla iki + 120° C, naktį būna -150° C.
- Mėnulyje daiktai sveria daugiau negu Žemėje.

3. Koks reiškinys pavaizduotas paveikslėlyje? Užrašyk.

1 t.



.....

4. Kaip žiemą paukščiai tupi ant medžio šakos? Pažymėk (X) teisingą atsakymą. Paaiškinink, kodėl.

Prieš vėją

Pavėjui

2 t.

5. Pažymėk (X) virškinimo sistemos organus. Užrašyk jų pavadinimus.



.....



.....



.....



.....



.....



.....

3 t.

6. Pažymėk (X) žemėlapyje Pietų Amerikos žemyną.



1 t.

7. Kai kurie gyvūnai yra labai reti. Pavyzdžiui, paprastoji lūšis. Tai gyvūnas, įrašytas į Lietuvos raudonąją knygą. Jų yra labai nedaug. Kas atsitiks, jei liks tikrai paprastosios lūšies patelės? Teisingą teiginį (-ius) pažymėk (X).

Patelės susiras kitos rūšies gyvūnų patinų, kad galėtų poruotis ir atsivesti daugiau paprastųjų lūšių.

Patelės susiporuos viena su kita ir atsives daugiau paprastųjų lūšių.

Patelės galės atsivesti tikrai paprastųjų lūšių patelių.

Patelės negalės atsivesti paprastųjų lūšių palikuonių, jos išmirs.

1 t.

8. Parašyk tris šių gyvūnų skirtumus, nesusijusius su išvaizda.



3 t.

- 1.
- 2.
- 3.

9. Kilo stipri audra. Kurį iš šių medžių dažniausiai vėjas perlaužia per pusę?
Pažymėk (X). Paaiškink, kodėl.



2 t.

-
-
-

10. Kaip pripūsti balioną pasinaudojus visomis šiomis priemonėmis? Paaiškink.



2 t.

-
-
-

11. Patyrinėk žemėlapi. Parašyk, kas šiame žemėlapyje pavaizduota neteisingai. Ištaisyk klaidą.

2 t.



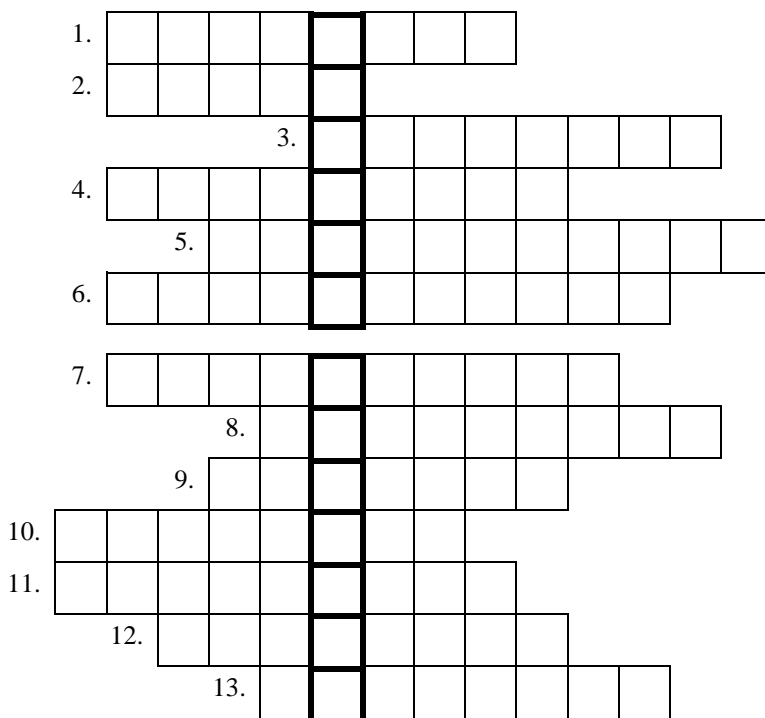
.....

12. Kas atsitiktų, jei nebeliktų Žemėje naftos išteklių? Parašyk 2 samprotavimus.

2 t.

1.....
 2.....

13. Išspręsk laiptažodį.



1. Trečias pagal dydį Lietuvos miestas.
2. Pirmojo lietuviško slapto laikraščio pavadinimas.
3. 1410m. liepos 15d. įvyko ... mūšis.
4. Kaunas buvo ... Lietuvos sostinė.
5. Seniausioji Vilniaus miesto dalis.
6. Spaudos draudimo laikotarpio mokytojas, dirbęs slaptosiose kaimo mokyklose.
7. Įžymus Lietuvos dailininkas ir kompozitorius.
8. Lietuvos karalius.
9. Pirmas Lietuvos prezidentas.
10. Kunigaikštis, išplėtęs LDK ribas iki Juodosios jūros.
11. Seniausias Lietuvoje augantis ąžuolas.
12. Pirmosios lietuviškos knygos autorius.
13. Lietuva yra Europos ... narė.

13t.

AČIŪ UŽ DARBĄ

Iš viso gali surinkti 39 taškus.